

6. VAJA IZ MEHANIKE TRDNIH TELES

(tenzor deformacij I)

(pomiki togega telesa, Lagrangev in Eulerjev opis, tenzor velikih deformacij)

NALOGA 1: Pomik togega telesa je glede na kartezijski koordinatni sistem z bazo \mathbf{e}_x , \mathbf{e}_y in \mathbf{e}_z opisan s translacijo \mathbf{u}_0 in majhnim zasukom $\boldsymbol{\omega}_0$ referenčne točke $T_0(5, 5, 1)$

$$\begin{aligned}\mathbf{u}_0 &= 10^{-2}(2\mathbf{e}_x - 3\mathbf{e}_y + \mathbf{e}_z), \\ \boldsymbol{\omega}_0 &= 10^{-2}(\mathbf{e}_x + 2\mathbf{e}_y + 3\mathbf{e}_z).\end{aligned}$$

Delec Q je v začetnem stanju določen s točko $T(8, 2, 1)$ (telesne koordinate delca so torej $x = 8$, $y = 2$, $z = 1$). Določi pomik in zasuk delca Q

a) v bazi \mathbf{e}_x , \mathbf{e}_y in \mathbf{e}_z ,

b) v bazi \mathbf{e}_ξ , \mathbf{e}_η in \mathbf{e}_ζ , ki je glede na bazo \mathbf{e}_x , \mathbf{e}_y in \mathbf{e}_z določena z enačbami

$$\begin{aligned}\mathbf{e}_\xi &= 1/\sqrt{3}\mathbf{e}_x + 1/\sqrt{3}\mathbf{e}_y + 1/\sqrt{3}\mathbf{e}_z, \\ \mathbf{e}_\eta &= -2/\sqrt{6}\mathbf{e}_x + 1/\sqrt{6}\mathbf{e}_y + 1/\sqrt{6}\mathbf{e}_z, \\ \mathbf{e}_\zeta &= -1/\sqrt{2}\mathbf{e}_y + 1/\sqrt{2}\mathbf{e}_z.\end{aligned}$$

Rešitev:

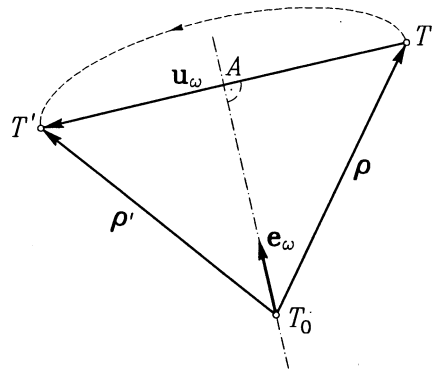
$$\begin{aligned}\mathbf{u} &= \mathbf{u}_0 + \boldsymbol{\omega}_0 \times (\mathbf{r} - \mathbf{r}_0) = 10^{-2}(11\mathbf{e}_x + 6\mathbf{e}_y - 8\mathbf{e}_z), \\ \boldsymbol{\omega} &= \boldsymbol{\omega}_0 = 10^{-2}(\mathbf{e}_x + 2\mathbf{e}_y + 3\mathbf{e}_z).\end{aligned}$$

$$\begin{aligned}\mathbf{u} &= u_x\mathbf{e}_x + u_y\mathbf{e}_y + u_z\mathbf{e}_z = u_\xi\mathbf{e}_\xi + u_\eta\mathbf{e}_\eta + u_\zeta\mathbf{e}_\zeta = \\ &= 10^{-2}\left(\frac{9}{\sqrt{3}}\mathbf{e}_\xi - \frac{24}{\sqrt{6}}\mathbf{e}_\eta - \frac{14}{\sqrt{2}}\mathbf{e}_\zeta\right), \\ \boldsymbol{\omega} &= 10^{-2}\left(\frac{6}{\sqrt{3}}\mathbf{e}_\xi + \frac{3}{\sqrt{6}}\mathbf{e}_\eta + \frac{1}{\sqrt{2}}\mathbf{e}_\zeta\right).\end{aligned}$$

NALOGA 2: Za podatke iz gornje naloge izračunaj točno vrednost pomika \mathbf{u} .

Rešitev:

$$\begin{aligned}\boldsymbol{\omega}_0 &= \omega_0\mathbf{e}_\omega \\ \boldsymbol{\rho}' &= \cos(\omega_0)\boldsymbol{\rho} + (1 - \cos(\omega_0))(\mathbf{e}_\omega \cdot \boldsymbol{\rho})\mathbf{e}_\omega + \sin(\omega_0)\mathbf{e}_\omega \times \boldsymbol{\rho} = \\ &= 3.0877\mathbf{e}_x - 2.9082\mathbf{e}_y - 0.0904\mathbf{e}_z, \\ \mathbf{u}_\omega &= \boldsymbol{\rho}' - \boldsymbol{\rho} = 10^{-2}(8.77\mathbf{e}_x + 9.18\mathbf{e}_y - 9.04\mathbf{e}_z), \\ \mathbf{u} &= \mathbf{u}_0 + \mathbf{u}_\omega = 10^{-2}(10.77\mathbf{e}_x + 6.18\mathbf{e}_y - 8.04\mathbf{e}_z).\end{aligned}$$



Rešitev lahko poiščemo tudi z uporabo rotacijske matrike $[R]$.

$$[R] = [I] + \sin(\omega_0) [N] + (1 - \cos(\omega_0)) [N]^2,$$

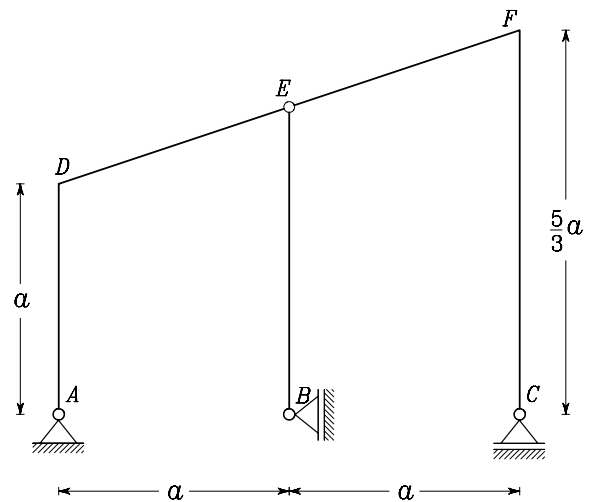
kjer ob upoštevanju oznak

$$\begin{aligned} \boldsymbol{\rho} &= \rho_x \mathbf{e}_x + \rho_y \mathbf{e}_y + \rho_z \mathbf{e}_z, \\ \boldsymbol{\rho}' &= \rho'_x \mathbf{e}_x + \rho'_y \mathbf{e}_y + \rho'_z \mathbf{e}_z, \\ \mathbf{e}_\omega &= \omega_1 \mathbf{e}_x + \omega_2 \mathbf{e}_y + \omega_3 \mathbf{e}_z \end{aligned}$$

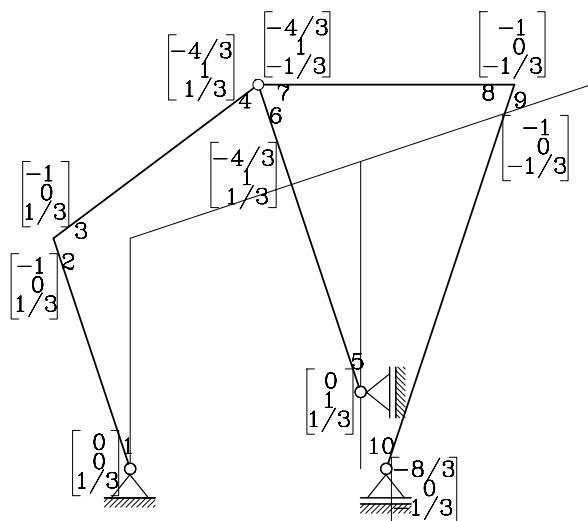
velja

$$[N] = \begin{bmatrix} 0 & -\omega_3 & \omega_2 \\ \omega_3 & 0 & -\omega_1 \\ -\omega_2 & \omega_1 & 0 \end{bmatrix}, \quad \begin{bmatrix} \rho'_x \\ \rho'_y \\ \rho'_z \end{bmatrix} = [R] \begin{bmatrix} \rho_x \\ \rho_y \\ \rho_z \end{bmatrix}.$$

- NALOGA 3:** 3. (35 %) Določi pomike in zasuke togih teles na sliki, če podporo B v vertikalni smeri premaknemo za $\delta v = 10^{-3}$ m.
 $a = 3$ m.



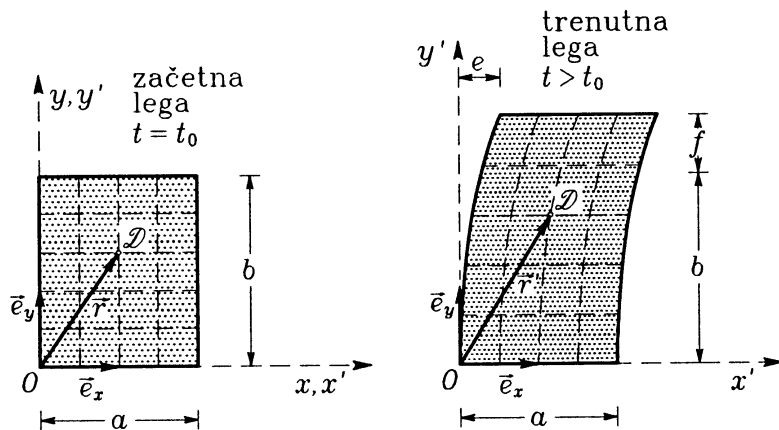
Rešitev:



Pomiki in zasuki konstrukcije $\times 10^{-3}$.

Pomen oznak:
$$\begin{bmatrix} u_x \\ u_y \\ \varphi_z \end{bmatrix}.$$

NALOGA 4: Gumijasti pravokotni kvader ima v začetni nedeformirani legi dimenzije a, b, c . Zaradi delovanja zunanje obtežbe se kvader deformira kot je prikazano na sliki. Določi pomik v referenčnem in prostorskem opisu. Zapiši materialne bazne vektorje $\mathbf{g}_x = \mathbf{e}'_x$, $\mathbf{g}_y = \mathbf{e}'_y$ in $\mathbf{g}_z = \mathbf{e}'_z$ za ta primer. Pokaži, da vektor \mathbf{e}'_y leži na tangenti na materialno os in ni nujno enotski



Rešitev: Pomik v referenčnem opisu: $\mathbf{u} = \frac{c}{b^2} y^2 \mathbf{e}_x + \frac{f}{b} y \mathbf{e}_y$.

Pomik v prostorskem opisu: $\mathbf{u} = \frac{c y'}{(b+f)^2} \mathbf{e}_x + \frac{f y'}{f+b} \mathbf{e}_y$.

Bazni vektorji: $\mathbf{e}'_x = \mathbf{e}_x$, $\mathbf{e}'_y = \frac{2y}{b^2} \mathbf{e}_x + \left(1 + \frac{f}{b}\right) \mathbf{e}_y$, $\mathbf{e}'_z = \mathbf{e}_z$.

NALOGA 5: Za materialni delec T so prostorske koordinate x', y' in z' podane v

odvisnosti od telesnih koordinat x , y in z z enačbami

$$\begin{aligned}x' &= x, \\y' &= y + a z, \\z' &= z + a y.\end{aligned}$$

V enačbah je a konstanta. Določi vektorja pomikov, izražena z materialnimi in prostorskimi koordinatami.

Rešitev: Komponente vektorja pomika, izražene z materialnimi koordinatami:

$$u_x = x' - x = 0, \quad u_y = y' - y = a z, \quad u_z = z' - z = a y.$$

Vektor pomika, izražen z materialnimi koordinatami:

$$\mathbf{u} = u_x \mathbf{e}_x + u_y \mathbf{e}_y + u_z \mathbf{e}_z = a z \mathbf{e}_y + a y \mathbf{e}_z.$$

Materialne koordinate, izražene v odvisnosti od prostorskih koordinat:

$$\begin{aligned}x &= x', \\y &= \frac{y' - a z'}{1 - a^2}, \\z &= \frac{z' - a y'}{1 - a^2}.\end{aligned}$$

Od tu dobimo vektor pomika, izražen s prostorskimi koordinatami:

$$\mathbf{u} = a \frac{z' - a y'}{1 - a^2} \mathbf{e}_y + a \frac{y' - a z'}{1 - a^2} \mathbf{e}_z.$$

NALOGA 6: Naj bo $a = \frac{1}{2}$. Kam po deformaciji (glej prejšnjo nalogo) preidejo materialne točke, ki v začetnem nedeformiranem stanju ležijo

a) na krožnici $x = 0$, $y^2 + z^2 = \frac{1}{1-a^2}$.

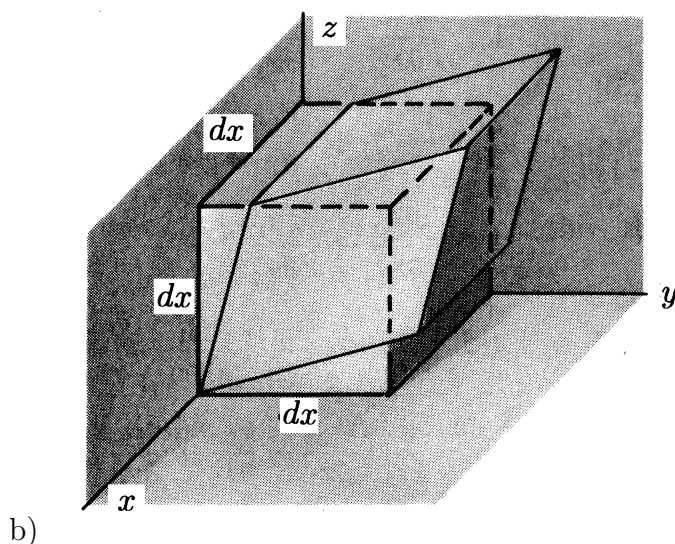
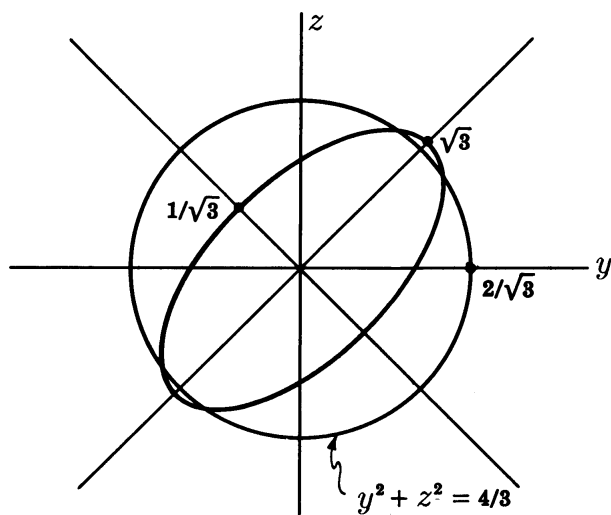
b) na kocki s stranicami $dx = dy = dz$ s središčem v točki $(dx/2, dy/2, dz/2)$.

Rešitev:

a) Po izražavi materialnih koordinat s prostorskimi

$$\begin{aligned}x &= x', \\y &= \frac{y' - a z'}{1 - a^2}, \\z &= \frac{z' - a y'}{1 - a^2}\end{aligned}$$

krožnica $x = 0$, $y^2 + z^2 = \frac{1}{1-a^2}$ preide v elipso $(1+a^2) y'^2 - 4 a y' z' + (1+a^2) z'^2 = (1-a^2)$ pri $a = 1/2$ konkretno v $5 y'^2 - 8 y' z' + 5 z'^2 = 3$.



NALOGA 7: Deformiranje telesa je opisano v telesnih koordinatah x , y in z (dolžine so podane v cm) s poljem pomikov $\mathbf{u} = -ayz \mathbf{e}_x + axz \mathbf{e}_y$, kjer je a poljubna konstanta.

Določi vektor pomikov v cilindričnih prostorskih koordinatah, tj. določi u_r , u_φ in u_z , da velja $\mathbf{u} = u_r \mathbf{e}_r + u_\varphi \mathbf{e}_\varphi + u_z \mathbf{e}_z$.

Rešitev: $u_r = 0$, $u_\varphi = arz$, $u_z = 0$, $\mathbf{u} = arz \mathbf{e}_\varphi$.

NALOGA 8: Deformiranje telesa je v Lagrangevem opisu podano z enačbami

$$\begin{aligned} x' &= x + z(e^2 - 1), \\ y' &= y + z(e^2 - e^{-2}) \\ z' &= e^2 z, \end{aligned}$$

kjer je e konstanta. Pokaži da je Jacobijeva matrika povsod nesingularna in opiši deformiranje telesa z Eulerjevimi enačbami.

Rešitev:

$$|[J]| = \begin{vmatrix} \frac{\partial x'}{\partial x} & \frac{\partial x'}{\partial y} & \frac{\partial x'}{\partial z} \\ \frac{\partial y'}{\partial x} & \frac{\partial y'}{\partial y} & \frac{\partial y'}{\partial z} \\ \frac{\partial z'}{\partial x} & \frac{\partial z'}{\partial y} & \frac{\partial z'}{\partial z} \end{vmatrix} = \begin{vmatrix} 1 & 0 & (e^2 - 1) \\ 0 & 1 & (e^2 - e^{-2}) \\ 0 & 0 & e^2 \end{vmatrix} = e^2 \neq 0.$$

$$\begin{aligned}x &= x' + z'(e^{-2} - 1), \\y &= y' + z'(e^{-4} - 1) \\z &= e^{-2} z',\end{aligned}$$

NALOGA 9: Polje pomikov je podano z vektorjem

$$\mathbf{u} = x z^2 \mathbf{e}_x + x^2 y \mathbf{e}_y + y^2 z \mathbf{e}_z.$$

Določi (materialni) deformacijski gradient $[F]$ in materialni gradient pomikov $\left[\frac{\partial u_j}{\partial x_i}\right]$ in pokaži, da velja $\left[\frac{\partial u_j}{\partial x_i}\right] = [F] - [I]$.

Rešitev:

$$\begin{aligned}\left[\frac{\partial u_j}{\partial x_i}\right] &= \begin{bmatrix} z^2 & 0 & 2 x z \\ 2 x y & x^2 & 0 \\ 0 & 2 y z & y^2 \end{bmatrix}^T \\[F] = \left[\frac{\partial x'_j}{\partial x_i}\right] &= \begin{bmatrix} 1 + z^2 & 0 & 2 x z \\ 2 x y & 1 + x^2 & 0 \\ 0 & 2 y z & 1 + y^2 \end{bmatrix}^T\end{aligned}$$

NALOGA 10: Deformiranje telesa je opisano s poljem pomikov \mathbf{u} v telesnih koordinatah x , y in z (dolžine so podane v cm).

$$\mathbf{u} = 10^{-4} (2 x^2 \mathbf{e}_x - (x + y)^2 \mathbf{e}_y + 4 \mathbf{e}_z).$$

- Določi spremembo razdalje med delcema D_1 in D_2 , ki sta v nedeformiranem stanju določena s točkama $T_1(10, 10, 0)$ in $T_2(11, 11, 0)$.
- V točki T_1 določi točno vrednost specifične spremembe dolžine v smeri $\overline{T_1 T_2}$. Kolikšno napako narediš, če to specifično spremembo dolžine izraziš
 - z vrednostjo tenzorja majhnih deformacij v smeri $\overline{T_1 T_2}$,
 - s povprečno vrednostjo specifične spremembe dolžine med točkama T_1 in T_2 .

Rešitev:

a)

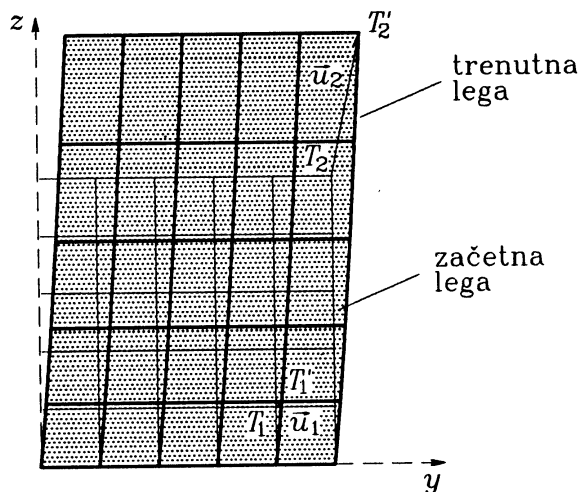
$$|\Delta \mathbf{r}'| - |\Delta \mathbf{r}| = |(\mathbf{r}_2 + \mathbf{u}_2) - (\mathbf{r}_1 + \mathbf{u}_1)| - |\mathbf{r}_2 - \mathbf{r}_1| = -0.002942 \text{ cm}.$$

$$\begin{aligned}\text{b) } E_{xx} &= 4 x \cdot 10^{-4} + (8 x^2 + 2 (x + y)^2) \cdot 10^{-8} = 40.16 \cdot 10^{-4}, \\E_{yy} &= -2 (x + y) \cdot 10^{-4} + 2 (x + y)^2 \cdot 10^{-8} = -39.92 \cdot 10^{-4}, \\E_{xy} &= -(x + y) \cdot 10^{-4} + 2 (x + y)^2 \cdot 10^{-8} = -19.92 \cdot 10^{-4}, \\E_{rr} &= E_{xx} e_{rx}^2 + 2 E_{xy} e_{rx} e_{ry} + E_{yy} e_{ry}^2 = -19.80 \cdot 10^{-4}, \\D_{rr} &= \sqrt{1 + 2 E_{rr}} - 1 = -19.8196 \cdot 10^{-4}\end{aligned}$$

$$- \varepsilon_{rr} = -20 \cdot 10^{-4}, n_\varepsilon = \frac{\varepsilon_{rr}}{D_{rr}} - 1 = 0.91\%,$$

$$- \bar{D}_{rr} = \frac{|\Delta \mathbf{r}'| - |\Delta \mathbf{r}|}{|\Delta \mathbf{r}|} = -0.00208, \bar{n} = \frac{\bar{D}_{rr}}{D_{rr}} - 1 = 4.94\%,$$

NALOGA 11: Deformiranje telesa je podano s poljem pomikov v materialnem koordinatnem sistemu $\mathbf{u} = 10^{-3} ((xy - 3) \mathbf{e}_x + (2x^2 + z) \mathbf{e}_y + z^2 \mathbf{e}_z)$ [cm]. Telo v nedeformiranem stanju zaseda trirazsežno območje $(x, y, z) \in [0, 1] \times [0, 5] \times [0, 5]$. Analiziraj deformiranje telesa v ravnini $x = 0$. Določi spremembo razdalje med delcema D_1 in D_2 , ki sta se pred deformiranjem nahajala v točkah $\mathbf{r}_1 = 4 \mathbf{e}_y + 1 \mathbf{e}_z$ [cm] in $\mathbf{r}_2 = 5 \mathbf{e}_y + 5 \mathbf{e}_z$ [cm]. Določi tudi specifično spremembo dolžin vlaken v smeri $T_1 T_2$.



Prerez telesa v nedeformirani začetni legi in pomika delcev \mathcal{D}_1 in \mathcal{D}_2

Rešitev: Specifična sprememba dožine daljice $\overline{T_1 T_2}$ je $\overline{D}_{TT} = \overline{\varepsilon}_{TT} = \frac{\Delta \overline{T_1 T_2}}{\overline{T_1 T_2}} = 0.005881$.

Količina \overline{D}_{TT} predstavlja **povprečno** normalno deformacijo $\overline{\varepsilon}_{TT}$ vlaken v smeri $T_1 T_2$ med točkama T_1 in T_2 .

Normalna komponenta deformacije ε_{TT} v smeri $\mathbf{e}_T = \frac{T_1 T_2}{\overline{T_1 T_2}}$ v točki T_1 je $\varepsilon_{TT}(T_1) = 0.00211$. Normalna komponenta deformacije ε_{TT} v smeri \mathbf{e}_T v točki T_3 , ki se nahaja na sredini med točkama T_1 in T_2 je $\varepsilon_{TT}(T_3) = 0.005882$.

NALOGA 12: Deformiranje telesa je podano z enačbami

$$\begin{aligned} x' &= x, \\ y' &= y + a z, \\ z' &= z + a y, \end{aligned}$$

kjer je a konstanta.

- Izračunaj (Lagrangev) tenzor velikih deformacij \mathbf{E} ,
- Označimo z ds dolžino diagonale pravokotnika OC , kjer so koordinate točk $C(0, dy, dz)$ in $O(0, 0, 0)$ v nedeformiranem stanju. Izračunaj razliko $ds'^2 - ds^2$.
- Izračunaj tenzor majhnih deformacij ε .
- Naj bo $a = 10^{-4}$. Z uporabo tenzorja velikih deformacij \mathbf{E} in z uporabo tenzorja majhnih deformacij ε izračunaj razliko $ds'^2 - ds^2$ in primerjaj rezultata.

Rešitev:

a)

$$[E_{ij}] = \frac{1}{2} \begin{bmatrix} 0 & 0 & 0 \\ 0 & a^2 & 2a \\ 0 & 2a & a^2 \end{bmatrix}.$$

b)

$$ds'^2 - ds^2 = a^2 (dy^2 + dz^2) + 4a dy dz.$$

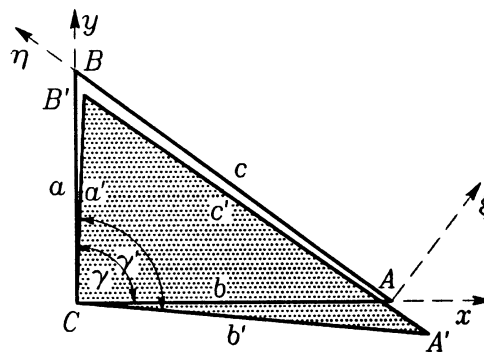
c)

$$[\varepsilon_{ij}] = \frac{1}{2} \begin{bmatrix} 0 & 0 & 0 \\ 0 & 0 & 2a \\ 0 & 2a & 0 \end{bmatrix}.$$

d)

$$\begin{aligned} ds'^2 - ds^2 &= a^2 (dy^2 + dz^2) + 4a dy dz = 10^{-8} (dy^2 + dz^2) + 10^{-4} dy dz, \\ ds'^2 - ds^2 &= 4a dy dz = 10^{-4} dy dz. \end{aligned}$$

NALOGA 13: Obravnavamo ploščo trikotne oblike s stranicami $a = 3$ m, $b = 4$ m in $c = 5$ m. Pod vplivom zunanje obtežbe se plošča deformira. Spremembe dolžin stranic trikotnika so $\Delta a = -0.012$ m, $\Delta b = 0.015$ m in $\Delta c = 0.0088$ m. Določi spremembo pravega kota med stranicama a in b .



Trikotna plošča pred in po deformiranju

Rešitev: Točno: $\Delta\gamma = \gamma' - \gamma = 90.09482^\circ - 90^\circ = 0.09482^\circ = 0.001655$ rad.
 Približno: Iz ε_{xx} , ε_{yy} , $\varepsilon_{\eta\eta}$ izračunamo ε_{xy} . $\Delta\gamma \approx 2\varepsilon_{xy} = -0.001667$ rad.