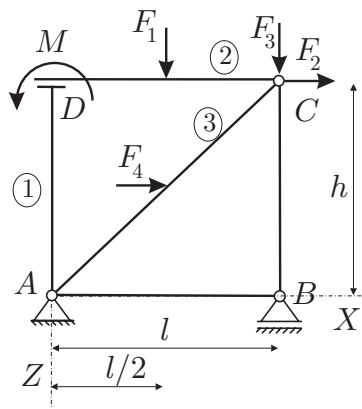


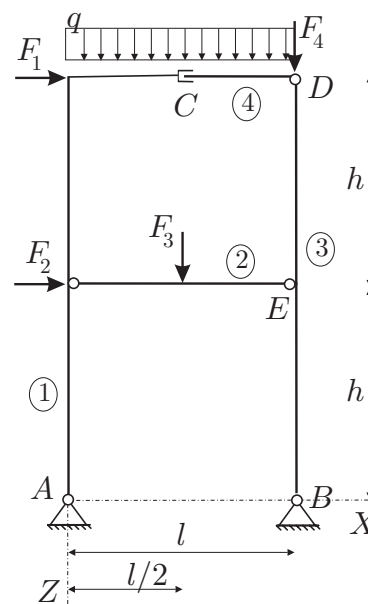
# Osnove statike in dinamike

## 2. Domača naloga

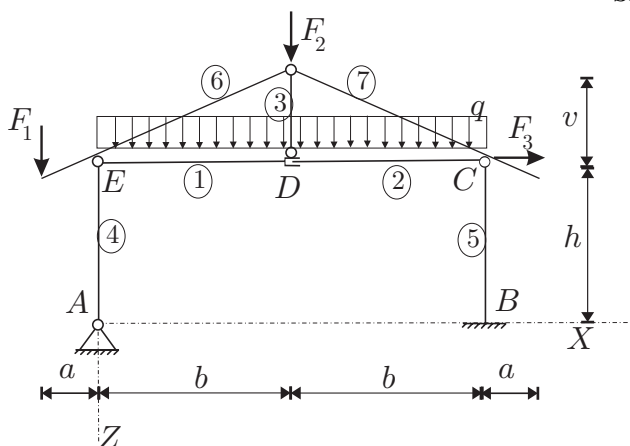
Za konstrukcije na sliki zapiši ravnotežne enačbe in določi reakcije v podporah in sile v označenih vezeh. Podatki na slikah, so podani v tabeli podatkov na naslovu [www.km.fgg.uni-lj.si/predmeti/OSD/DN.htm](http://www.km.fgg.uni-lj.si/predmeti/OSD/DN.htm) za vsakega študenta posebej.



Slika 1: Prva konstrukcija.



Slika 2: Druga konstrukcija.



Slika 3: Tretja konstrukcija.